

**1. Tko je vozač?**

1. osoba koja na cesti upravlja vozilom
2. osoba osposobljena za vozača u autoškoli
3. samo osoba koja na cesti upravlja motornim vozilom

**2. Smije li vozač tijekom upravljanja vozilom koristiti mobilni telefon?**

1. smije ako upotrebljava napravu koja omogućuje njegovo korištenje bez uporabe ruku
2. ne smije na način koji bi umanjio mogućnost reagiranja i sigurnog upravljanja vozilom
3. smije ako i ne upotrebljava napravu koja omogućuje njegovo korištenje bez uporabe ruku kad se radio o službenom mobitelu

**3. Kako ćete voziti pokraj osoba kojima ne možete primijeniti načelo povjerenja?**

1. ubrzati i što prije se od njih maknuti
2. pokraj njih voziti uz povećan oprez
3. procjenjivati njihove namjere

**4. Što karakterizira brzu cestu?**

1. jedna ili dvije razdvojene kolničke trake
2. raskrižja s poprečnim cestama u dvije ili više razina
3. trake za zaustavljanje vozila u nuždi

**5. O čemu ovisi duljina potrebnog razmaka od vozila ispred u situaciji kao na slici?**



1. prometnom znaku izričite naredbe
2. brzini vožnje
3. pozornosti vozača

**6. Kako ćete postupiti nakon ovoga prometnog znaka?**



1. pripremiti se na kočenje i zaustavljanje
2. očekivati prelazak djece preko kolnika
3. vožnju nastaviti povećanom brzinom

**7. Na što vozaču ukazuju prometni znakovi kao na slici?**



1. na zabranu prometa vozilima na udaljenosti 100 metara od prometnog znaka
2. na nailazak na cestu s prednošću prolaska nakon 100 metara
3. na obavezno zaustavljanje nakon 100 metara

**8. Koja vozila smiju koristiti cestu obilježenu ovim prometnim znakom?**

**Znak plave boja**

1. osobni automobili
2. motocikli
3. traktori



**9. Koji je raspored prometnih svjetala na semaforu gledajući odozgo prema dolje?**

1. žuto, crveno, zeleno
2. crveno, zeleno, žuto
3. crveno, žuto, zeleno

**10. Smijete li na dijelu kolnika označenom kao na slici zaustaviti vozilo?**




1. ne smijem
2. smije

**11. Čemu služe smjerokazni stupići u situaciji kao na slici?**



1. za označavanje ruba kolnika
2. za označavanje obaveznog smjera kretanja
3. za označavanje naprava za smirivanje promet

**12.Što znači položaj tijela i znak koji daje policijski službenik na slici?**



1. zabranu prolaska za sudionike u prometu koji nailaze iz smjera u kojemu su okrenuta leđa odnosno prsa policijskog službenika
2. slobodan prolazak za sudionike u prometu koji nailaze iz smjera u kojemu su okrenuta leđa odnosno prsa policijskog službenika

**13.Što smanjuje širinu vidnog polja vozača?**

1. vožnja malim brzinama
2. vožnja pod utjecajem alkohola i droge
3. emocionalna nestabilnost vozača

**14.Što može utjecati na preglednost ispred vozila tijekom vožnje u situaciji kao na slici?**



1. razmak od vozila ispred
2. vrsta i dimenzije vozila
3. prilagodba vozačkih zrcala

**15.Vozite cestom u situaciji na slici,kako postupiti?**



1. voziti ne smanjujući brzinu do obilježenoga pješačkog prijelaza
2. na dovoljnom bočnom razmaku obići pješaka
3. predvidjeti mogućnost da pješak krene ulijevo
4. biti spreman na iznenadno kočenje

**16. Namjeravate se vozilom uključiti u promet u situaciji kao na slici? Kako ćete postupiti?**



1. uključiti pokazivač smjera
2. propustiti samo vozila koja dolaze s lijeve strane
3. propustiti pješake koji se kreću nogostupom

**17. Kojom se stranom kolnika mora kretati vozač ako se svojim vozilom vozi unatrag?**

1. onom stranom na kojoj je manji intenzitet prometa
2. onom stranom kojom se do tada kretao vožnjom unaprijed
3. onom stranom koja se proteže uz lijevi rub kolnika


**18. Na koji način se vozač može pripremiti za promjenu prometne trake?**

1. ubrzavanjem vozila
2. usporavanjem vozila
3. naglim okretanjem kotača upravljača

**19. Približavate se vozilom raskrižju na kojem se prometom upravlja semaforima. Kada smijete nastaviti vožnju?**

1. nakon što propustite sve sudionike u prometu koji se kreću smjerom u kojemu je promet dopušten ne čekajući promjenu svjetla semaforu
2. nakon što za vaš smjer kretanja upali zeleno svjetlo
3. odmah, bez obzira na to koje je svjetlo upaljeno na semaforu

**20. Kako ćete postupiti u situaciji kao na slici?(sivi s lijeve, crveni s desne strane)**



1. propustiti crveni automobil
2. voziti prije crvenog automobila
3. propustiti sivi automobil

21. Zbog čega morate, u situaciji kao na slici, propustiti autobus?




1. zbog toga što autobus zadržava smjer kretanja
2. zbog toga što autobus nailazi cestom s prednošću prolaska
3. zbog toga što se prometom upravlja semaforima

22. Kako ćete postupiti u situaciji kao na slici?



1. propustiti motocikl i voziti prije osobnog automobila
2. propustiti osobni automobil i voziti prije motocikla
3. propustiti oba vozila

23. Kako ćete postupiti u situaciji kao na slici?



1. propustiti vozilo koje nailazi s moje desne strane
2. voziti prije vozila koje dolazi iz suprotnog smjera
3. propustiti vozilo koje dolazi iz suprotnog smjera

24. Što ste dužni učiniti u situaciji kao na slici?



1. povećati brzinu vožnje
2. prema potrebi pomaknuti svoje vozilo k desnom rubu kolnika
3. ostaviti dovoljan razmak sa svoje lijeve strane

25. Kada vozač vozilom ne smije početi pretjecati drugo vozilo?

1. ako je vozač vozila iza vas počeo pretjecati
2. ako je prometna traka kojom namjerava pretjecati slobodna
3. ako je vozač vozila ispred u istoj prometnoj traci dao znak da namjerava pretjecati

26. Koliki mora biti najmanji razmak od nadvožnjaka, podvožnjaka, mosta i tunela i zaustavljenog ili parkirano vozila?

27. Namjeravate voziti u Perušić u situaciji kao na slici. Kako ćete postupiti?



1. usporavati i potom prijeći na traku za usporavanje
2. uključiti desni pokazivač smjera
3. prijeći na traku za usporavanje i potom

28. Kako ćete postupiti kada se tijekom vožnje na instrumentnoj ploči upali žaruljica kao na slici?

1. isključiti se iz prometa
2. na prvoj benzinskoj postaji točiti gorivo
3. provjeriti radnu temperaturu motora



29. Koji od uređaja pripadaju uređajima za davanje svjetlosnih znakova?

1. kratka svjetla
2. stop-svjetla
3. pokazivači smjera

**30. Koje opasnosti moguće pri vuči priključnog voz.**

1. produljuje se put reagiranja
2. produljuje se put kočenja
3. produljuje se put pretjecanja

**31. Što je dužan učiniti vlasnik vozila koji ne produlji valjanost prometne dozvole u roku 15 dana od isteka njezina važenja?**

1. vratiti prometnu dozvolu i registarske pločice
2. odjaviti vozilo
3. vratiti vozačku dozvolu

**32. Kojom brzinom je dopušteno voziti nakon znaka u situaciji kao na slici? (zona 40)**



1. brzinom do 40 km na sat kroz cijelo naselje
2. brzinom do 40 km na sat do prvoga raskrižja
3. brzinom do 40 km na sat do izlaska iz tog područja

**33. Autobus je zaustavljen u situaciji kao na slici. Koje opasnosti možete predvidjeti?**



1. kontrolu karata u autobusu
2. iznenadnu pojavu djece ispred autobusa
3. iznenadno pretrčavanje djece preko kolnika

**34. Koje opasnosti možete očekivati na cesti izvan naselja, u situaciji kao na slici?**



1. nailazak na prijelaz ceste preko željezničke pruge
2. nailazak na nepregledni zavoj
3. nailazak na ravnu i preglednu dionicu ceste

**35. Što je dužan učiniti vozač vozila kada ga drugo vozilo pretječe u situaciji kao na slici?**



1. pomaknuti svoje vozilo k desnom rubu kolnika
2. pomaknuti svoje vozilo k središnjoj uzdužnoj crti na kolniku
3. ne povećavati brzinu kretanja svojega vozila

**36. Koje opasnosti možete predvidjeti za vožnje uzbrdicom?**

1. pregrijavanje motora
2. dulje vrijeme reagiranja vozača
3. kraći zaustavni put

**37. Čime se obilježava mjesto prometne nesreće?**



1. sigurnosnim trokutom
2. crvenom tkaninom
3. crvenom pločom dimenzija 50 x 50 cm

**38. Kako ćete postupiti u slučaju kvara na vozilu u situaciji kao na slici?**



1. uključiti sve pokazivače smjera
2. postaviti sigurnosni trokut što dalje iza vozila na vidnom mjestu
3. na vozilu ugasiti kratka svjetla

<b>Test 8</b>	
1.	1
2.	1
3.	23
4.	12
5.	23
6.	12
7.	3
8.	12
9.	3
10.	1
11.	1
12.	1
13.	23
14.	12
15.	234
16.	13
17.	2
18.	12
19.	2
20.	13
21.	13
22.	1
23.	13
24.	23
25.	13
26.	15 m
27.	23
28.	1
29.	23
30.	23
31.	12
32.	3
33.	23
34.	12
35.	13
36.	1
37.	1
38.	12