

1. Tko je sudionik u prometu na cesti?

1. osoba koja na bilo koji način sudjeluje u prometu na cesti
2. osoba koja ni na koji način ne sudjeluje u prometu na cesti

2. Smije li osoba koja je dobila uvjerenje o položenom vozačkom ispitu upravljati vozilom?

1. smije
2. smije samo u pratnju iskusnog vozača
3. ne smije

3. Prema kojim se sudionicima u prometu vozač treba odnositi s povećanim oprezom?

1. prema biciklistima
2. prema vozačima koji poštuju pravila
3. prema vozačima mopeda

4. Što karakterizira autocestu?

1. dvije fizički odvojene kolničke trake
2. raskrižja u istoj razini s trakama za isključivanje i uključivanje
3. trake za zaustavljanje vozila u nuždi

5. Zbog čega vozač za vožnje autocestom u situaciji kao na slici mora naročito paziti na razmak od vozila ispred?



1. zbog toga što je sklizak kolnik
2. zbog toga što vozač vozila ispred pretječe
3. zbog toga što postoji opasnost od naleta na vozilo ispred

6. Što označuje ovaj prometni znak s dopunskom pločom?

1. opasnu uzbrdicu u duljini 600 metara od znaka
2. opasnu uzbrdicu 600 metara nakon znaka
3. opasnu nizbrdicu u duljini 600 metara od znaka



7. Koji od prometnih znakova zabranjuje promet u oba smjera?



8. Na koju obavijest ukazuje ovaj prometni znak?



plava znak

1. da vozilom ulazite u dvosmjernu ulicu
2. da vozilom izlazite iz dvosmjerne ulice
3. da vozilom ulazite u cestu s jednosmjernim prometom

9. Na koju opasnost upozorava prometni znak s dopunskom pločom u situaciji kao na slici?



1. da će 1 km nakon prometnog znaka naići na mjesto od kojeg se promet odvija u oba smjera
2. nailasku na mjesto na kojem se promet odvija u oba smjera u duljini 1 km od prometnog znaka
3. na obvezu propuštanja vozila iz suprotnog smjera u duljini 1 km

10. Koje prometne površine u situaciji kao na slici su označene žutom bojom?



1. biciklistička traka
2. stajalište autobusa
3. biciklistička staza


11. Što je označeno žuto-crnim ploham u situaciji kao na slici?



1. mjesto oštećenja kolnika
2. naprava za smirivanje prometa
3. mjesto uzdignutog ruba kolnika

12. Kojem svjetlu na semaforu odgovara položaj tijela i znak koji daje policijski službenik na slici?

1. žutom svjetlu
2. zelenom svjetlu
3. crvenom svjetlu



13. Zašto se širina vidnog polja sužava s povećanjem brzine?

1. zato što vozač svoju pozornost usmjeruje na veću udaljenost ispred vozila
2. zato što vozač stalno prati brzinu na brzinomjeru vozila
3. zato što vozač mora stalno okretom glave pratiti promet oko svog vozila

14. Koji je preduvjet važan vozaču za uspješno i sigurno gledanje iz vozila?

1. vezanje sigurnosnim pojasom
2. prilagodba sjedala i pravilan položaj za upravljačem
3. pravilna prilagodba vozačkih zrcala

15. Vozite gradom i želite skrenuti u ulicu označenu prometnim znakom na slici. Kako ćete postupiti?



1. skrenut ćete u tu ulicu i nastaviti vožnju brzinom 30 km u satu
2. skrenut ćete u tu ulicu, ali ćete voziti najviše do brzine hoda pješaka
3. skrenut ćete i pratiti situaciju na cesti jer je tu dječja igra dopuštena

16. Što je dužan učiniti vozač koji se vozilom uključuje u promet na cesti?

1. propustiti sva vozila koja se kreću cestom na koju se uključuje
2. propustiti samo vozila koja mu dolaze ususret
3. propustiti pješake koji se kreću cestom na koju se uključuje

17. Vozač vozila ispred ima uključene sve pokazivače smjera. Što to može značiti?




1. da je zaustavljen zbog propuštanja pješaka
2. da vozi unatrag
3. da je zaustavljen zbog kvara na vozilu

18. Što je mijenjanje prometne trake?


1. prelaženje vozilom u drugu prometnu traku namijenjenu za promet iz suprotnog smjera
2. prelaženje vozilom iz jednu u drugu prometnu traku za promet u istom smjeru

19. Kojim se od prometnih znakova uređuje odvijanje prometa na raskrižju?




1 2 3

20. Kako ćete postupiti u situaciji kao na slici?



1. propustiti crveni automobil
2. voziti prije crvenog automobila
3. propustiti vozilo ako nailazi s lijeve strane

21. Kako ćete postupiti u situaciji kao na slici?




1. propustiti autobus
2. voziti prije autobusa

22. Kako ćete postupiti u situaciji kao na slici?



1. voziti prije motocikla
2. voziti prije autobusa
3. propustiti motocikl

23. Zbog čega ste u situaciji kada je na semaforu upaljeno žuto trepteće svjetlo, kao na slici, dužni propustiti motocikl?



1. zbog toga što nailazi s moje desne strane
2. zbog toga što se kreće cestom s prednošću prolaska
3. zbog toga što vozilom nailazite na sporednu cestu

24. Što je mimoilaženje?

1. prolaženje vozilom pokraj drugog vozila koje se po istom kolniku kreće istim smjerom
2. prolaženje vozilom pokraj drugog vozila koje se po istom kolniku kreće iz suprotnog smjera

25. Mije li vozač svojim vozilom pretjecati kolonu vozila?

1. smije
2. ne smije

26. Koliki mora biti najmanji razmak od raskrižja i zaustavljenog ili parkiranog vozila?

27. Koju prometnu traku mora koristiti vozač koji se vozilom isključuje iz prometa na autocesti?

1. traku za zaustavljanje u nuždi
2. desnu prometnu traku
3. traku za usporavanje

28. Što označuje žaruljica na instrumentnoj ploči sa simbolom kao na slici?



1. tlak ulja u motoru
2. punjenje akumulatora
3. temperaturu rashladne tekućine

29. Što označuje žaruljica na instrumentnoj ploči sa simbolom kao na slici?



1. uključeno prednje svjetlo za maglu
2. uključena kratka svjetla
3. uključeno stražnje svjetlo za maglu

30. Koliko priključnih vozila smije biti pridodano motornom vozilu u prometu na autocesti?

1. jedno priključno vozilo
2. dva priključna vozila
3. dva priključna vozila, jedno za prijevoz tereta i jedno za prijevoz osoba

31. U kojem vremenu vlasnik novog osobnog automobila mora obaviti redoviti tehnički pregled?

1. u roku 24 mjeseca od prvog tehničkog pregleda
2. u roku 12 mjeseci od prvog tehničkog pregleda
3. u roku 18 mjeseci od prvog tehničkog pregleda

32. Kojom brzinom je dopušteno voziti nakon izlaska iz naselja u situaciji kao na slici?



1. brzinom do 50 km na sat
2. brzinom 70 km na sat samo do prvoga raskrižja
3. brzinom do 90 km na sat

33. Vozeći cestom s jednosmjernim prometom približavate se zaustavljenom autobusu u situaciji kao na slici. Kako ćete postupiti?



1. obvezno obaviti obilaženje autobusa
2. predvidjeti mogući nailazak djece ispred autobusa
3. što brže obaviti pretjecanje autobusa

34. Na kojim dijelovima ceste zimi često dolazi do sklizanja ili zanošenja vozila?

1. na mostovima ili vijaduktima
2. na ravnim dionicama ceste
3. na uzbrdicama ili zavojima

35. O čemu ovisi razmak od vozila ispred u situaciji kao na slici?



1. brzini vožnje
2. vrsti i stanju vozila
3. okolini ceste kojom se kreću vozila

36. Koje su opasnosti moguće pri pretjecanju vozila, u situaciji kao na slici?



1. pogrešna procjena duljine preglednosti za pretjecanje
2. pogrešna procjena prostora za povratak nakon pretjecanja
3. pridržavanje dovoljnog bočnog razmaka

37. Kako treba postupiti vozač u vožnji u nizbrdici?



1. pravodobno promijeniti u nižu brzinu
2. voziti trakom za spora vozila
3. isključiti rad motora

38. U kojim slučajevima se sudionik u prometnoj nesreći u kojoj je netko izgubio život ili je ozlijeđen ili je nastala veća materijalna šteta može privremeno udaljiti?

1. samo radi pružanja pomoći osobama ozlijeđenim u prometnoj nesreći
2. radi obavješćivanja policije o prometnoj nesreći
3. samo radi obavješćivanja vatrogasne službe
4. ako mu je samome potrebna liječnička pomoć

39. Koja svjetla za osvjetljavanje ceste, u pravilu, vozač vozila upotrebljava?

1. kratka svjetla
2. duga svjetla
3. pozicijska svjetla

40. O čemu treba voditi računa tijekom vožnje u situaciji kao na slici ?



1. održavanju potrebnog razmaka
2. brzini vožnje i stanju kolnika
3. vozilima iz suprotnog smjera

Test 7	
1.	1
2.	3
3.	13
4.	13
5.	13
6.	1
7.	2
8.	3
9.	1
10.	23
11.	2
12.	2
13.	1
14.	23
15.	23
16.	13
17.	23
18.	2
19.	1
20.	1
21.	1
22.	23
23.	2
24.	2
25.	2
26.	5m
27.	3
28.	2
29.	3
30.	1
31.	1
32.	3
33.	2
34.	13
35.	12
36.	12
37.	1
38.	124
39.	2
40.	12