

**2. Što je cesta?**

1. svaka javna cesta, ulica u naselju i nerazvrstana cesta na kojoj se obavlja promet
2. svaka javna površina na kojoj se obavlja promet motornih vozila

**2. Kada vozač ne smije upravljati niti početi upravljati vozilom na cesti?**

1. ako u organizmu ima alkohola iznad propisane količine
2. ako je u tolikoj mjeri umoran ili bolestan da je nesposoban za vožnju
3. ako koristi lijekove na kojima nije označeno da se ne smiju upotrebljavati prije ili za vrijeme vožnje

**3. U prometu, prema kojim se sudionicima vozač ne smije bez opreza pouzdati u načelo povjerenja?**

1. prema djeci
2. prema sudionicima drugog spola
3. prema osobama koje su vidno pod utjecajem alkohola

**4.Što označuje ovaj prometni znak?(zelena boja znaka)**

1. završetak brze ceste
2. završetak autoceste
3. završetak državne ceste



**5.Zbog čega vozač,u situaciji kao na slici,mora naročito paziti na razmak od vozila ispred?**



1. zbog toga što je sklizak kolnik
2. zbog toga što vozač vozila ispred može naglo kočiti
3. zbog toga što postoji opasnost od naleta na vozilo ispred koje može skrenuti

**6.Na što morate paziti kad naiđete na ovaj prometni znak?**

1. na moguća vozila u zavoju
2. na prilagodbu brzine vožnje
3. na suženje ceste s lijeve strane



**7.Kako ćete postupiti u situaciji kao na slici?**



1. skrenuti ulijevo bez zaustavljanja
2. obvezno zaustaviti vozilo
3. obvezno skrenuti ulijevo

**8.Kako ćete postupiti pri nailasku na ovaj prometni znak ako pješaci namjeravaju prijeći kolnik?**

1. povećanom brzinom proći prije pješaka
2. smanjiti brzinu vožnje
3. prema potrebi zaustaviti vozilo



**9.O čemu vozača obavješćuje prometni znak s dopunskom pločom na slici?**



1. zabrani pretjecanja svih motornih vozila osim motocikla bez prikolice i mopeda nakon 1.5 km od prometnog znaka
2. zabrani pretjecanja svih motornih vozila osim motocikla bez prikolice i mopeda u duljini 1,5 km

**10.Što označuje prometna površina desno od žute isprekidane crte?**



1. prometnu traku za spora vozila
2. prometnu traku za zaustavljanje u nuždi
3. prometnu traku namijenjenu za vozila javnog prijevoza putnika

**11.Na što upozoravaju prometni znakovi ucrtani na kolniku u situaciji kao na slici?**



1. na približavanje raskrižju
2. na ograničenje brzine 40 km na sat
3. na obilježeni pješački prijelaz

**12. Kojem svjetlu na semaforu odgovara položaj tijela i znak koji daje policijski službenik na slici?**



1. zelenom svjetlu
2. žutom svjetlu
3. crvenom svjetlu

**13. Što se događa sa širinom vidnog polja pri povećanju brzine?**

1. širina vidnog polja se smanjuje
2. širina vidnog polja se povećava
3. širina vidnog polja se ne mijenja

**14. Kako treba postupiti vozač koji je sustigao vozilo ispred tijekom vožnje u situaciji kao na slici?**



1. voziti na potrebnom razmaku iza vozila
2. zvučnim znakom upozoriti vozača vozila ispred na namjeru pretjecanja
3. voziti predviđajući potencijalnu opasnost

**15. Kako ćete postupiti u situaciji kao na slici?**



1. zaustaviti se i propustiti pješake preko obilježenoga pješačkog prijelaza
2. nastaviti vožnju istom brzinom i biti pripravan na iznenadno kočenje
3. nastaviti skretanje ulijevo smanjenom brzinom pazeći na pješake

**16. Koja svjetla moraju biti upaljena na motornom vozilu za vrijeme vožnje danju u zimskom razdoblju računanja vremena?**

1. duga svjetla
2. samo pozicijska svjetla
3. dnevna ili kratka svjetla


**17. Što vozač mora uključiti na vozilu za vrijeme kretanja unatrag?**

1. lijevi pokazivač smjera
2. sve pokazivače smjera
3. desni pokazivač smjera

**18. Što je prestrojavanje?**


1. prelaženje vozilom iz jedne u drugu prometnu traku radi bržega kretanja
2. zauzimanje takvog položaja vozilom na prometnoj traci iz kojeg se može na siguran način izvesti radnja s vozilom
3. prolazanje vozilom pokraj drugog vozila koje se kreće u istom smjeru

**19. Kojim se od prometnih znakova uređuje odvijanje prometa na raskrižju?**



1                      2                      3

**20. Zbog čega morate, u situaciji kao na slici, propustiti vozilo koje nailazi iz suprotnog smjera?**




1. zbog toga što zadržava smjer kretanja
2. zbog toga što nailazi cestom s prednošću prolaska

**21. Kako ćete postupiti u situaciji kao na slici?**




1. propustiti autobus
2. propustiti oba vozila
3. propustiti motocikl i voziti prije autobusa

22. Kako ćete postupiti u situaciji kao na slici?



1. propustiti crveni automobil
2. voziti prije crvenog automobila
3. propustiti vozilo ako nailazi s lijeve strane

23. Kako ćete postupiti ako je na semaforu upaljeno žuto treptće svjetlo u situaciji kao na slici?



1. propustiti motocikl i voziti prije autobusa
2. voziti prvi kroz raskrižje
3. voziti zadnji kroz raskrižje

24. Koju ćete prometnu traku koristiti za skretanje ulijevo na cesti s jednosmjernim prometom ako prometni znakom ili oznakom na kolniku nije drukčije određeno?

1. prometnu traku koja se prostire uz lijevi rub ceste
2. prometnu traku koja se prostire uz desni rub ceste

25. Vozač vozila iza vas dao je znak pokazivačem smjera da namjerava pretjecati. Što ste dužni učiniti?

1. pomaknuti svoje vozilo k desnom rubu kolnika
2. povećati brzinu kretanja
3. ne povećavati brzinu kretanja dok vas drugo vozilo pretječe

26. Koliki najmanji razmak mora biti od obilježenoga pješačkog prijelaza i parkiranog vozila?

27. Uključujete se na autocestu u situaciji kao na slici? Kako ćete postupiti?



1. postupno ubrzavati vozilo trakom za ubrzanje
2. zaustaviti vozilo na početku trake za ubrzanje
3. davati znak lijevim pokazivačem smjera

28. Što označuje žaruljica na instrumentnoj ploči sa simbolom kao na slici?



1. rezervu goriva
2. grešku u radu motora
3. predgrijavanje dizelskog motora

29. Koju boju na vozilu daje uključeno stražnje svjetlo za maglu?

1. bijelu
2. žutu
3. crvenu

30. Koga ne smijete prevoziti na prednjem sjedalu svog osobnog automobila?

1. osobu koja koristi mobilni telefon za vrijeme vožnje
2. osobu koja je pod utjecajem alkohola ili droge
3. dijete mlađe od 12 godina

31. Kojom brzinom je dopušteno voziti ulaskom u naselje u situaciji kao na slici?



1. brzinom većom od 70 km na sat
2. brzinom do 70 km na sat do prvoga raskrižja
3. brzinom do 70 km na sat kroz cijelo naselje

**32. Kojom prometnom trakom vam je dopušteno voziti u situaciji kao na slici?**



1. prometnom trakom uz desni rub kolnika
2. prometnom trakom uz središnju crtu
3. prometnom trakom lijevo od središnje crte

**33. Koje su posljedice monotone vožnje ravnim dionicama ceste moguće za vozača?**

1. umor
2. smanjenje koncentracije i pozornosti
3. bolje uočavanje prometne situacije

**34. O čemu ovisi razmak koji vozač mora održavati vozeći između vozila u koloni?**



1. brzini vožnje vozila u koloni
2. vrsti i stanju ceste
3. okolini ceste kojom se kreću vozila

**35. Zašto je pretjecanje jedna od najopasnijih radnji vozilom u prometu na cesti izvan naselja?**

1. zato što se vozilom prelazi na prometnu traku za vozila iz suprotnog smjera
2. zato što je teško procijeniti brzinu i duljinu puta pretjecanja
3. zato što se skraćuje vrijeme reagiranja vozača

**36. Kako postupiti u vožnji po uzbrdici?**



1. prilagoditi brzinu vožnje uzbrdici i njenoj duljini
2. održavati potreban razmak između vozila
3. voziti s minimalnim ubrzanjem

**37. Kako treba postupiti sudionik u prometnoj nesreći u kojoj je netko izgubio život ili je ozlijeđen ili je nastala veća materijalna šteta?**

1. dužan je ostati na mjestu nesreće, s time što se može privremeno udaljiti
2. dužan je poduzeti sve što je u njegovoj moći da se otklone nove opasnosti
3. dužan je odmah napustiti mjesto prometne nesreće

**38. Koja se svjetla smiju koristiti noću u normalnim atmosferskim uvjetima za osvjetljavanje ceste dok se vozi kroz naselje?**

1. kratka svjetla
2. svjetla za maglu
3. duga svjetla

**39. Zbog čega prva kiša predstavlja opasnost za sigurnu vožnju?**

1. zbog vožnje s upaljenim svjetlima
2. zbog dobre vidljivosti
3. zbog vrlo skliskoga kolnika

**40. Na koju brzinu ukazuje prometni znak na slici?**



1. na brzinu koja se preporučuje
2. na ograničenje brzine
3. na najmanju dopuštenu brzinu

<b>Test 6</b>	
1.	1
2.	12
3.	13
4.	2
5.	23
6.	12
7.	23
8.	23
9.	2
10.	3
11.	23
12.	3
13.	1
14.	13
15.	2
16.	3
17.	2
18.	2
19.	1
20.	1
21.	3
22.	1
23.	1
24.	1
25.	13
26.	5 m
27.	13
28.	1
29.	3
30.	3
31.	3
32.	2
33.	12
34.	12
35.	12
36.	12
37.	12
38.	13
39.	3
40.	3