

**1. Što je prometna traka za ubrzanje?**

1. dio kolnika namijenjen za uključivanje vozila u prometni tok sa sporedne ceste
2. dio kolnika namijenjen isključivo za pretjecanje

**2. Koja vozila pripadaju B kategoriji?**

1. osobni automobili
2. motokultivatori
3. traktori

**3. Kako će postupiti kulturni vozač u situaciji kao na slici?**



1. ubrzati i prijeći u lijevu prometnu traku
2. zvučnim znakom upozoriti pješake da požure
3. stati i omogućiti pješacima siguran prelazak kolnika

**4. Koja je cesta označena ovim prometnim znakom?**




plava boja znaka

1. brza cesta
2. autocesta
3. cesta namijenjena isključivo za promet motornih vozila

**5. Kojim postupcima vozač može utjecati na produljenje zaustavnog puta vozila?**

1. ako vozi pod utjecajem alkohola
2. ako vozi smanjenom brzinom
3. ako nije koncentriran na vožnju

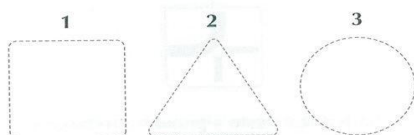
**6. Koji od prometnih znakova na slici pripadaju znakovima opasnosti?**



**7. Koji prometni znak označuje brzinu koja se preporučuje na određenoj dionici ceste?**



**8. Koji oblik, u pravilu, imaju znakovi obavijesti?**



**9. Koja je svrha dopunskih ploča?**

1. pobliže odrediti značenje prometnog znaka
2. najaviti udaljenost do sljedećega prometnog znaka


**10. Koje se oznake na kolniku obilježavaju žutom bojom?**

1. kolničke trake
2. oznake mjesta na kojima je zabranjeno parkiranje
3. naprave za smirivanje prometa

**11. Koji prometni znak označuje blizinu mjesta na kojemu se nalazi obilježeni pješački prijelaz?**



**12. Kako ćete postupiti približavajući se vozilom policijskom službeniku u situaciji kao na slici ako znak daje u vašem smjeru?**



1. obvezno zaustaviti vozilo
2. ubrzati kretanje vozila
3. smanjiti brzinu kretanja vozila

**13. S kojim se problemom suočava vozač sa slabijom oštrinom vida u situaciji kao na slici?**



1. kasnije uočava prometnu situaciju
2. slabom prilagodbom na svjetlo i tamu
3. smanjenim vremenom za reagiranje na opasne situacije

**14. Što mora činiti vozač kako bi izbjegao opasnosti i rizik u prometu?**

1. voziti isključivo na način kako to njemu odgovara
2. voziti predviđajući potencijalnu opasnost
3. pravilno reagirati na smetnje u vožnji

**15. Vozite cestom i uočite pješaka koji hoda kolnikom u situaciji kao na slici. Kako ćete postupiti?**



1. prijeći na lijevu prometnu traku i ostaviti dovoljan bočni razmak za obilaženje
2. usporiti i povećati pozornost
3. voziti na sigurnom bočnom razmaku

**16. Vozeći cestom naišli ste na ovaj prometni znak. Kako ćete postupiti?**



1. voziti s povećanim oprezom tom dionicom ceste jer postoji opasnost nailaska na domaće životinje
2. trubiti da se životinje maknu s ceste ako se njome kreću
3. što prije proći opasno mjesto

**17. Kako vozač motornog vozila daje znakove ostalim sudionicima u prometu?**

1. stop-svjetlima
2. odgovarajućim znakom tijela
3. pokazivačima smjera

**18. U kojim slučajevima se vozač svojim vozilom na cesti može kretati unatrag?**

1. samo ako su na cesti najmanje dvije prometne trake za kretanje vozila u jednom smjeru
2. ako će to učiniti samo na kratkom dijelu ceste
3. ako ne ugrožava ili ne ometa druge sudionike u prometu

**19. Što je dužan učiniti vozač koji se vozilom približava raskrižju?**

1. prilagoditi brzinu prometnim uvjetima
2. povećati brzinu i što prije proći kroz raskrižje
3. utvrditi način uređenja odvijanja prometa na raskrižju

**20. Koja je vozila dužan propustiti vozač vozila koje skreće ulijevo?**

1. vozila koja dolazeći iz suprotnog smjera skreću udesno
2. vozila koja nailaze s njegove lijeve strane
3. vozila koja dolazeći iz suprotnog smjera zadržavaju smjer kretanja ili skreću udesno

**21. Zbog čega morate, u situaciji kao na slici, propustiti vozilo koje nailazi iz suprotnog smjera?**



1. zbog toga što zadržava smjer kretanja
2. zbog toga što nailazi s glavne ceste
3. zbog toga što vozilom skrećete ulijevo

**22. Kako ćete postupiti u situaciji kao na slici?**



1. voziti prvi kroz raskrižje
2. propustiti osobni automobil
3. voziti zadnji kroz raskrižje

**23. Zbog čega ste u situaciji kada je na semaforu upaljeno žuto trepteće svjetlo, kao na slici, dužni propustiti motocikl?**



1. zbog toga što nailazi s moje desne strane
2. zbog toga što se kreće cestom s prednošću prolaska
3. zbog toga što vozilom nailazite na sporednu cestu



**24. Zbog čega morate, u situaciji kao na slici, propustiti crveni automobil?**



1. zbog toga što nailazi s desne strane
2. zbog toga što se kreće cestom s prednošću prolaska
3. zbog toga što se nalazite na sporednoj cesti

**25. Koju ćete prometnu traku koristiti za skretanje udesno ako prometnim znakom ili oznakama na kolniku nije drukčije određeno?**

1. prometnu traku koja se prostire uz lijevi rub kolnika
2. prometnu traku koja se prostire uz desni rub kolnika
3. prometnu traku namijenjenu za promet vozila iz suprotnog smjera

**26. S koje se strane mora obilaziti pješački otok koji se nalazi na sredini kolnika ceste s dvosmjernim prometom?**

1. s lijeve strane
2. s desne strane

**27. Na kojim od ovih mjesta vozač ne smije zaustavljati ili parkirati svoje vozilo?**

1. na kojima bi mogao ugrožavati sigurnost prometa
2. na kojima predstavlja smetnju za kretanje pješaka
3. na kojima postoji organiziran način parkiranja vozila
4. na kojima je to zabranjeno prometnim znakom

**28. Gdje je vozač dužan, zbog neispravnosti na vozilu, zaustaviti vozilo na kolniku autoceste u situaciji kao na slici?**



1. uz rub desne prometne trake
2. na traci za zaustavljanje vozila u nuždi
3. na traci za usporavanje

**29. Što označuje žaruljica na instrumentnoj ploči sa simbolom kao na slici?**

1. temperaturu rashladne tekućine
2. tlak ulja u motoru
3. punjenje akumulatora



**30. Kada se koriste svjetla za maglu?**

1. samo tijekom vožnje po magli
2. tijekom vožnje noću
3. uvijek za vrijeme vožnje

**31. Na što vas upozoravaju dva sigurnosna trokuta jedan pokraj drugog?**

1. da je na kolniku na razmaku od najmanje 100 m od tog mjesta zaustavljena kolona vozila
2. da se na kolniku na razmaku od najmanje 100 m od tog mjesta nalaze zaustavljena dva motorna vozila

**32. Kojom se brzinom smije voziti kroz naselje u situaciji kao na slici?**



1. najviše brzinom 50 km na sat
2. najviše brzinom 70 km na sat
3. brzinom 50 km na sat do prvoga raskrižja, a nakon toga najviše 70 km na sat

**33. Prema prometnom znaku i oznakama na kolniku, u situaciji kao na slici, u kojem je smjeru je dopušten prolazak raskrižjem?**



1. samo ravno
2. samo ulijevo i udesno
3. ravno, ulijevo i udesno

**34. Koje opasnosti su moguće u vožnji na cesti izvan naselja?**



1. nepregledni zavoji
2. na pojedinim dionicama mogući odroni kamenja
3. vožnja raskrižjem u više razina

**35. Što je bitno za izbjegavanje rizika od nalijetanja na vozilo koje se kreće ispred?**

1. pratiti znak stop-svjetla na vozilu ispred
2. prepoznavanje razloga zbog kojeg vozilo ispred naglo koči
3. pratiti pozicijska svjetla vozila ispred sebe

**36. Na koje opasnosti morate računati dok pretječete u situaciji kao na slici?**



1. na vozila koja nailaze iz suprotnog smjera
2. na povećanu duljinu puta pretjecanja
3. na premalu brzinu vozila koje pretječete

**37. Prema čemu ćete prilagoditi brzinu vožnje prije ulaska u zavoj?**



1. prema polumjeru zavoja i poprečnom nagibu kolnika
2. prema vrsti i stanju kolnika
3. prema tlaku zraka u gumama

**38. Kako ćete postupiti kada naiđete na prometnu nesreću u kojoj ima ozlijeđenih osoba?**



1. pomoći ćete nastradalima u nesreći
2. poduzeti sve mjere da se otklone nove opasnosti
3. nesreći ćete obavijestiti policiju
4. brzo ćete napustiti mjesto nesreće

**39. Koje opasnosti pri mimoilaženju mogu nastati u ovoj situaciji?**



1. nalet na pješake
2. nalet na bicikliste
3. pravodobno uočavanje pješaka

**40. S kojim opasnostima morate računati u situaciji kao na slici?**



1. s povećanom opasnošću od zanošenja
2. sa skraćivanjem zaustavnog puta
3. s dolaskom vozila iz suprotnog smjera

<b>Test 4</b>	
1.	1
2.	1
3.	3
4.	13
5.	13
6.	1
7.	3
8.	1
9.	1
10.	23
11.	1
12.	2
13.	23
14.	23
15.	23
16.	1
17.	13
18.	23
19.	13
20.	13
21.	13
22.	1
23.	2
24.	1
25.	2
26.	2
27.	124
28.	2
29.	1
30.	1
31.	1
32.	2
33.	3
34.	12
35.	12
36.	1
37.	12
38.	123
39.	12
40.	13