

1. Koju prometnu površinu prikazuje situacija na slici?



1. pješačku stazu
2. pješački otok
3. obilježeni pješački prijelaz

2. Koji kategorijama vozila ima pravo upravljati vozač kojemu je izdana vozačka dozvola za upravljanje vozilima B kategorije?

1. motornim vozilima koje pripadaju M, F i G kategoriji
2. motornim vozilima koja pripadaju B+E i H kategoriji
3. samo motornim vozilima koja pripadaju B kategorije

3. Kako alkohol djeluje na vozača?

1. tako da vozač, u pravilu, sporije reagira
2. tako da vozač brže reagira
3. tako da vozač precjenjuje svoje sposobnosti

4. Što je vrijeme reagiranja?

1. vrijeme koje protekne od trenutka kada je vozač uočio opasnost na cesti do potpunog zaustavljanja vozila
2. vrijeme koje protekne od trenutka uočavanja opasnosti na cesti do reakcije na tu opasnost

5. Koji od prometnih znakova pripada znakovima izričitih naredaba?



6. Kojim je motornim vozilima nakon ovoga prometnog znaka zabranjen promet?

1. vozilima na tračnicama
2. svim motornim vozilima osim motociklima bez prikolice i mopedima
3. motociklima bez prikolice i mopedima



7. O čemu vozača obavještuje prometni znak na slici?




1. da vozilom ulazi na brzu cestu
2. da vozilom ulazi na autocestu
3. da mu je zabranjen nastavak kretanja

8. Što najavljuje svjetlosni znak na slici?



1. slobodan prolazak prijelaza ceste preko željezničke pruge
2. približavanje vlaka
3. polubranik je u zatvorenom položaju


9. Kako ćete kao vozač vozila postupiti u situaciji kao na slici?



1. obvezno zaustaviti vozilo
2. obvezno voziti bez zaustavljanja
3. zaustaviti vozilo samo ako nailazi vozilo

10. Kako ćete postupiti približavajući se vozilom policijskom službeniku u situaciji kao na slici ako namjeravate skrenuti udesno?

1. obvezno zaustaviti vozilo
2. voziti u smjeru ispružene ruke
3. pratiti znak policijskog službenika



11. Kako ćete postupiti pri nailasku na prometni znak kao na slici?

1. obići prepreku na cesti s desne strane
2. voziti obvezno u smjeru strelice na znaku
3. voziti obvezno u smjeru suprotnom od strelice na znaku



12. Što treba činiti vozač za pravodobno uočavanje prometnog znaka i postupanje tijekom vožnje u situaciji kao na slici?



1. pažnju usmjeriti na prometnu situaciju ispred vozila
2. razumjeti poruku znaka i postupiti prema njoj
3. voziti na minimalnom razmaku iza vozila

13. Radi čega vozač mora provjeravati mrtvi kut?

1. radi provjere prometnih uvjeta iza svog vozila
2. radi provjere prometnog znaka koji je prošao
3. radi provjere prometnih uvjeta s bočnih strana vozila

14. Vozeći cestom naišli ste na ovaj prometni znak. Kako ćete postupiti?

1. smanjiti brzinu i paziti na bicikliste
2. polukružno se okrenuti jer je cesta namijenjena samo za promet biciklista
3. ako biciklisti voze, održavati potreban razmak



15. Zašto vozači za kretanje vozila mogu koristiti prometnu traku koja se ne prostire uz desni rub kolničke trake u situaciji kao na slici?



1. zato što to propis dopušta
2. zato što svojom vožnjom ne ometaju vozila koja se kreću iza njih
3. zato što ne mogu razviti brzinu veću od 40 km na sat


16. Kolika je najveća dopuštena brzina kretanja vozila na cesti, osim na autocesti, brzjoj cesti i cesti namijenjoj isključivo za promet motornih vozila?

km na sat

17. Kako ćete postupiti kada svojim vozilom ulazite na cestu koja je prometnim znakom označena kao cesta s prednošću prolaska?

1. propustiti isključivo vozila koja nailaze s lijeve strane
2. propustiti isključivo vozila koja se kreću velikom brzinom
3. propustiti sva vozila koja se kreću tom cestom

18. Kako ćete postupiti u situaciji kao na slici?




1. propustiti vozilo policije
2. voziti prije vozila hitne pomoći
3. propustiti vozilo hitne pomoći

19. Zbog čega morate, u situaciji kao na slici, propustiti motocikl?



1. zbog toga što nailazim na cestu s prednošću prolaska
2. zbog toga što nailazite s lijeve strane
3. zbog toga što zadržavate smjer vožnje

20. Kako ćete postupiti ako je na semaforu upaljeno žuto trepteće svjetlo u situaciji kao na slici?



1. propustiti motocikl i voziti prije autobusa
2. voziti prvi kroz raskrižje
3. voziti zadnji kroz raskrižje

21. Kako ćete postupiti u situaciji kao na slici



1. obavezno stati i sačekati zeleno svjetlo
2. propustiti vozila s lijeve strane
3. sačekati da raskrižjem prođu sva vozila
4. uz povećani oprez voziti u smjeru koje dopunske zelene strelice

22. Kada vozač na cesti ne smije pretjecati?

1. kada ugrožava druge sudionike u prometu
2. kada nema prometa iz drugog smjera
3. kada mu je pretjecanje zabranjeno prometnim znakom ili oznakama na kolniku

23. Smije li vozač obilaziti drugo vozilo koje se zaustavilo radi propuštanja pješaka koji prelaze preko obilježenoga pješačkog prijelaza?

1. ne smije obilaziti
2. smije obilaziti

24. Je li vozač dužan zaustaviti svoje vozilo ispred prijelaza ceste preko željezničke pruge u istoj razini kada se daju svjetlosni ili zvučni znaci koji najavljuju približavanje vlaka?

1. dužan je zaustaviti svoje vozilo
2. dužan je zaustaviti svoje vozilo ako je vlak neposredno ispred prijelaza
3. nije dužan zaustaviti svoje vozilo

25. Koja vozila su vozila s pravom prednosti prolaska?

1. vozila službe hitne pomoći
2. vozila vatrogasne službe
3. vozila koja prate izvanredni prijevoz

26. Kada vozila s pravom prednosti prolaska nemaju pravo na prednost prolaska?

1. kada se susretnu s vozilima pod pratnjom
2. kada nailaze na cestu s prednošću prolaska
3. kada je na raskrižju gdje se prometom upravlja semaforima upaljeno crveno svjetlo

27. Što označuje žaruljica na instrumentnoj ploči sa simbolom kao na slici?

1. uključena duga svjetla
2. uključena prednja svjetla za maglu
3. uključena kratka svjetla za maglu



28. Kakve se gume moraju nalaziti na istoj osovini motornog vozila?

1. istih karakteristika po dimenzijama, nosivosti i vrsti
2. različitih karakteristika po dimenzijama, nosivosti i vrsti
3. istih karakteristika kakvih je guma na rezervnom kotaču

29. Koliko metara smije premašiti teret na vozilu najudaljeniju točku s prednje strane vozila?

najviše metara

30. Kako ćete postupiti pri ulasku vozilom u kružni tok prometa u situaciji kao na slici?



1. propustiti vozilo ako nailazi s lijeve strane
2. ući velikom brzinom u kružni tok
3. voziti prije vozila ako nailazi s lijeve strane

31. Kojom prometnom trakom vozač obavlja skretanje ulijevo iz ceste s jednosmjernim prometom u situaciji kao na slici?



1. isključivo trakom koja se prostire uz lijevi rub kolnika
2. isključivo trakom koja se prostire uz desni rub kolnika
3. isključivo trakom koja je namijenjena samo za vožnju

32. Koje opasnosti možete očekivati tijekom vožnje na cesti izvan naselja, u situaciji kao na slici?



1. nailazak na prijelaz ceste preko željezničke pruge s desne strane
2. neoprezno uključivanje vozila sa sporedne ceste
3. ometanje od vozila koja se uključuju na cestu kojom vozite

33. Do čega može dovesti kretanje vozilom na cesti izvan naselja brzinom manjom od najmanje dopuštene?



1. do stvaranja kolone vozila iza tog vozila
2. do dobrih uvjeta za pretjecanje
3. do zastoja

34. Zbog čega pretjecanje dugih vozila i vozila s nadgrađem predstavlja posebno velik rizik?



1. zbog toga što je smanjena preglednost
2. zbog toga što se povećava put pretjecanja
3. zbog toga što se smanjuje put pretjecanja

35. Mora li vozač koji naiđe na mjesto prometne nesreće prevesti ozlijeđenu osobu na zahtjev ovlaštene osobe do najbliže zdravstvene ustanove?

1. mora
2. ne mora ako osoba krvari
3. ne mora ako je osoba pod utjecajem alkohola

36. Vozite cestom u situaciji kao na slici. Kako ćete postupiti?



1. prilagoditi brzinu uvjetima vidljivosti
2. voziti sredinom prometne trake
3. povećati pozornost

Test 20
1. 3
2. 1
3. 13
4. 2
5. 2
6. 2
7. 2
8. 23
9. 1
10. 13
11. 2
12. 12
13. 3
14. 13
15. 12
16. 90kmh
17. 3
18. 13
19. 1
20. 1
21. 24
22. 13
23. 1
24. 1
25. 12
26. 13
27. 2
28. 1
29. 1m
30. 1
31. 1
32. 23
33. 13
34. 12
35. 1
36. 123