

1. Što je kolnička traka?

1. uzdužni dio kolnika namijenjen za promet vozila u jednom smjeru, s jednom prometnom trakom ili više
2. prometnih traka obilježeni ili neobilježeni dio kolnika čija je širina dovoljna za nesmetan promet jednog reda vozila u jednom smjeru

2. Vozite se u situaciji kao na slici. Na kojeg sudionika prometa ste naišli?



1. pješaka
2. putnika
3. goniča

3. Koji je preduvjet za sigurno ponašanje sudionika u prometu?

1. međusobno poštovanje
2. agresivno ponašanje
3. prometni odgoj i prometna

4. Kojom se cestom kreće vozilo u situaciji kao na slici?



1. brzom cestom
2. autocestom
3. cestom namijenjenom isključivo za promet motornih vozila

5. O čemu ovisi duljina puta kočenja?

1. psihomotoričkim sposobnostima vozača
2. brzini vožnje
3. stanju kolnika

6. Kako se u prometu na cesti čitaju prometni znakovi?

1. u smjeru vožnje odozdo prema gore
2. u smjeru vožnje odozgo prema dolje
3. s lijeva udesno

7. Koji prometni znak označuje obavezan smjer vožnje?



8. Na koju zabranu ukazuje ovaj prometni znak s dopunskom pločom?



1. na zabranu zaustavljanja i parkiranja u vremenu od 16 do 18 sati
2. na mjesto gdje je dopušteno zaustavljanje i parkiranje u vremenu od 16 do 18 sati

9. O čemu vozača obavještuje prometni znak na slici?



1. vrsti ceste kojom vozi
2. pružanju cestovnih smjerova
3. udaljenosti do određenog mjesta

10. Kako ćete postupiti u situaciji kao na slici prije nailaska vlaka?



1. nastaviti vožnju između polubranika
2. zaustaviti vozilo i čekati da se polubranici dignu

11.Što označuje kosa crta na kolniku u situaciji kao na slici?



1. mjesto zatvaranja prometne trake za zaustavljanje vozila u nuždi
2. mjesto zatvaranja prometne trake za vozila javnog prijevoza putnika
3. mjesto otvaranja prometne trake za vozila javnog prijevoza putnika

12.Kako ćete postupiti približavajući se vozilom policijskom službeniku u situaciji kao na slici ako znak daje u vašem smjeru?

1. obvezno zaustaviti vozilo
2. smanjiti brzinu vožnje



13.Koje posljedice može izazvati kasno uočena opasnost u prometu u situaciji kao na slici?



1. smanjenje vremena za donošenje ispravne odluke
2. produljenje puta kočenja vozila
3. prekasno započinjanje radnje izbjegavanja

14.Što najčešće dovodi do pogrešne procjene brzine tijekom vožnje u situaciji kao na slici?



1. procjena brzine temeljem iskustva
2. procjena brzine putem brzinomjera
3. prilagodba na određenu brzinu

15.Vozite cestom u situaciji kao na slici.Kako ćete postupiti?




1. ubrzati vozilo i obići pješaka prije nailaska vozila iz suprotnog smjera
2. usporiti vozilo,sačekati prolazak vozila iz suprotnog smjera i potom obići pješaka
3. nastaviti vožnju prelaskom na lijevu prometnu traku i obići pješaka

16. Kako se vozač može uvjeriti da može započeti neku radnju vozilom?

1. okretanjem vozila
2. pogledom ispred vozila i preko ramena
3. pogledom u unutarnje zrcalo

17. Vozite cestom desnom prometnom trakom u situaciji kao na slici. Što ne smijete činiti svojim vozilom?



1. voziti lijevom prometnom trakom u smjeru vožnje
2. kretati se vozilom unatrag
3. prelaziti središnju udvojenju uzdužnu putnu crtu

18. Zašto se vozač mora približavati raskrižju s povećanim oprezom?


1. kako bi što brže prošao kroz raskrižje
2. kako bi uočio prometne znakove
3. kako bi sigurno prošao raskrižjem

19. Približavate se vozilom raskrižju u situaciji kao na slici? Kako ćete postupiti?




1. propustiti crveni automobil
2. voziti prije crvenog automobila

20. Zbog čega ste obvezni nakon što propustite crveni automobil u situaciji kao na slici voziti prije crnog automobila?



1. zbog toga što crni automobil nailazi s desne strane
2. zbog toga što crni automobil nailazi sa sporedne ceste
3. zbog toga što nailazite s njegove desne strane

21. Kako ćete postupiti ako je na semaforu upaljeno žuto treptće svjetlo?



1. propustiti motocikl i voziti prije autobusa
2. voziti prvi kroz raskrižje
3. voziti zadnji kroz raskrižje

22. Kako ćete postupiti u situaciji kao na slici?



1. voziti prvi kroz raskrižje
2. voziti zadnji kroz raskrižje
3. voziti kroz raskrižje nakon što propustite motocikl

23. Pretječe li vozač osobnog automobila teretni automobil, u situaciji kao na slici, propisno?



1. da, jer je to dopušteno oznakama na kolniku
2. ne, jer to nije dopušteno oznakama na kolniku

24. Što se smatra prekidom kretanja vozila na cesti u trajanju do tri minute osim prekida koji se čini da bi se postupilo po prometnom znaku ili pravilu?

1. zaustavljanje vozila
2. parkiranje vozila

25. Što se ne smije činiti vozilom na autocesti, brzjoj cesti i cesti namijenjenoj isključivo za promet motornih vozila?

1. polukružno okretati vozilo
2. pretjecati druga vozila
3. zaustavljati i parkirati vozilo osim na površinama posebno uređenim za to
4. vozilom prelaziti iz trake u traku (slalom vožnja)

26. Kako ćete postupiti kada se tijekom vožnje na instrumentnoj ploči upali žaruljica kao na slici?



1. odmah, na prikladnom mjestu, isključiti vozilo iz prometa i isključiti rad motora
2. zaustaviti vozilo na prvoj benzinskoj postaji
3. uključiti sve pokazivače smjera i na dovoljnoj udaljenosti postaviti sigurnosni trokut

27. Koliko metara ceste mora osvijetliti svjetlosni snop dugog svjetla ispred vozila noću?

1. najmanje 40, a najviše 80 metara
2. najmanje 100 metara
3. najviše 80 metara

28. Po čemu ćete prepoznati vozilo koje prati izvanredni prijevoz?

1. po uključenim svim pokazivačima smjera
2. po uključenom rotacijskom svjetlu žute boje
3. po natpisu na krovu vozila "izvanredni prijevoz"

29. Sustigli se autobus označen kao na slici. Za koji je prijevoz namijenjen?



1. za prijevoz osoba s invaliditetom
2. za organizirani prijevoz djece
3. za prijevoz putnika

30. Koji su zahtjevi vožnje u gradu?

1. stalna pozornost i predviđanje opasnosti
2. pravodobno uočavanje i reagiranje
3. vožnja bez uvažavanja i tolerancije

31. Je li prema položaju automobila ispred vas na prometnoj traci, vozač tog automobila zauzeo pravilan položaj za skretanje udesno?



1. nije
2. jeste

32. Koja su obilježja vožnje izvan naselja?

1. učestale promjene dionica ceste
2. brojni pješački prijelazi
3. veće brzine vožnje

33. Zbog čega je opasno isključivanje iz prometa skretanjem ulijevo?

1. zbog pogrešne procjene brzine vozila koje dolazi iz suprotnog smjera
2. zbog vožnje na prevelikom razmaku iza vozila
3. zbog prekasnog uočavanja vozila koje dolazi iz suprotnog smjera

34. Kako morate propisno obilježiti vozilo koje ste zbog opravdanih razloga zaustavili na cesti?



1. sigurnosnim trokutom na najmanje 200 metara iza vozila
2. sigurnosnim trokutom na najmanje 100 metara iza vozila
3. reflektirajućom svjetiljkom na krovu vozila

35. Koji su najčešći uzroci događanja prometnih nesreća?

1. nepoštivanje prometnih propisa
2. neodgovorno ponašanje
3. vožnja brzinom prilagođenom uvjetima vožnje

36. Koji sudionici u prometu se, u pravilu, slabo uočavaju noću?

1. pješaci
2. neosvijetljeni biciklisti
3. vozači teretnih automobila

37. Što u situaciji kao na slici može negativno utjecati na sigurnost prometa?



1. smanjena vidljivost
2. vožnja na prevelikom razmaku
3. uporaba svjetala za maglu

38. Koje opasnosti su moguće, u situaciji kao na slici, ako se naglo koči?



1. može doći do slijetanja vozila s kolnika
2. moglo bi doći do pregrijavanja kočnica
3. može doći do zanošenja vozila

Test 2	
1.	1
2.	1
3.	13
4.	13
5.	23
6.	13
7.	3
8.	1
9.	13
10.	2
11.	2
12.	2
13.	13
14.	13
15.	2
16.	23
17.	3
18.	23
19.	1
20.	3
21.	1
22.	3
23.	1
24.	1
25.	134
26.	13
27.	2
28.	23
29.	2
30.	12
31.	2
32.	13
33.	13
34.	2
35.	12
36.	12
37.	12
38.	13