

1.Što prikazuje situacija kao na slici?



1. prometnu traku za ubrzavanje
2. prometnu traku za usporavanje
3. prometnu traku za pretjecanje

2.Kojom najvećom brzinom na cesti, osim na autocesti i brzoy cesti, smije upravljati vozilom mladi vozač koji posjeduje vozačku dozvolu B kategorije?

1. brzinom do 70 km na sat
2. brzinom do 80 km na sat
3. brzinom do 90 km na sat

3.Koji vozači, u pravilu, brže uočavaju opasnost u prometu na cesti?

1. vozači koji voze prilagođenom brzinom
2. vozači koji voze pod utjecajem alkohola
3. vozači koji predviđaju i očekuju opasnost

4.Kolika je dopuštena količina alkohola u organizmu tijekom upravljanja vozilom za vozača A1, A2, A, B i B+E kategorije?

1. 0,0 g/kg
2. 0,5 g/kg
3. 0,8 g/kg

5.Što je put reagiranja?

1. put koji prijeđe vozilo od trenutka kada je vozač uočio opasnost na cesti pa do njegove reakcije na tu opasnost
2. put koji prijeđe vozilo od trenutka kada je vozač uočio opasnost na cesti pa do potpunog zaustavljanja vozila

6.Na koju opasnost upozorava prometni znak kao na slici?



1. na opasno mjesto gdje divljač često prelazi preko ceste na udaljenosti 600 metara nakon prometnog znaka
2. na opasno mjesto gdje divljač često prelazi preko ceste u duljini 600 metara od prometnog znaka
3. na opasno mjesto gdje domaće životinje često prelaze preko ceste u duljini 600 metara od prometnog znaka

7.Na što ukazuje ovaj prometni znak sa dopunskom pločom?

1. na položaj ceste s pravom prednosti prolaska
2. na obvezno zaustavljanje
3. na obvezan smjer vožnje



8.Na koju obavijest ukazuje ovaj prometni znak?

1. da vozite brzom cestom
2. da vozite cestom s jednosmjernim prometom
3. na obvezan smjer vožnje



9.Kako smijete postupiti u situaciji kao na slici ako namjeravate skrenuti udesno?



1. uključiti desni pokazivač smjera
2. zaustaviti vozilo
3. skrenuti udesno

10.Čemu služi dvostruka isprekidana razdjelna crta u situaciji kao na slici?



1. za obilježavanje prometnih traka na kojima je dopušteno pretjecanje u oba smjera
2. za obilježavanje prometnih traka s izmjenjivim smjerom kretanja na kojima je promet upravlján semaforima
3. za obilježavanje prometnih traka s izmjenjivim smjerom kretanja na kojima prometom upravlja ovlaštena osoba

11.Kojem svjetlu na semaforu odgovara položaj tijela i znak koji daje policijski službenik na slici?

1. zelenom svjetlu
2. žutom svjetlu
3. crvenom svjetlu




12. Kako ćete postupiti pri nailasku na prometni znak kao na slici?

1. smanjiti brzinu vožnje
2. predviđati nailazak djece preko ceste
3. pripremiti se na obilaženje djece ako prelaze preko ceste
4. propustiti djecu ako prelaze preko ceste



13. Zbog čega se bolje uočava prometni znak u situaciji kao na slici?



1. zbog vrste prometnog znaka
2. zbog velikih brzina vožnje
3. zbog jačeg intenziteta svjetlosti

14. Koje su moguće opasnosti tijekom vožnje pri promjeni uvjeta vidljivosti?

1. prekasno uočavanje pješaka koji se kreću kolnikom
2. nalet vozilom na bicikliste ili pješake koji se kreću vozilom

15. Vozite cestom u situaciji kao na slici. Kako ćete postupiti?



1. voziti s povećanim oprezom 200 metara od znaka i očekivati djecu na cesti
2. voziti s povećanim oprezom i 200 metara nakon znaka očekivati djecu na cesti
3. preteći vozilo ispred dok nema djece na kolniku

16. Kojom se prometnom trakom, u pravilu, dužan kretati vozač vozilom?

1. prometnom trakom koja se proteže sredinom kolnika
2. prometnom trakom koja se proteže uz desni rub kolnika
3. prometnom trakom koja se proteže uz lijevi rub kolnika


17. Kolika je najveća dopuštena brzina kretanja vozila na autocesti?

1. 120 km na sat
2. 130 km na sat
3. 140 km na sat

18. Koja vozila morate propustiti na raskrižju cesta iste važnosti kada svojim vozilom skrećete ulijevo?


1. vozila koja, dolazeći vam iz suprotnog smjera, zadržavaju smjer kretanja
2. vozila koja, dolazeći vam iz suprotnog smjera, skreću udesno
3. vozila koja, dolazeći vam iz suprotnog smjera, skreću ulijevo

19. Kako ćete postupiti u situaciji kao na slici?




1. propustiti crveni automobil
2. voziti prije crvenog automobila
3. propustiti vozilo ako nailazi s lijeve strane

20. Kako ćete postupiti u situaciji kao na slici?



1. propustiti vozilo iz suprotnog smjera
2. voziti prije vozila iz suprotnog smjera
3. voziti prije vozila ako nailazi s desne strane

21. Zbog čega ste obvezni nakon što propustite crveni automobil u situaciji kao na slici voziti prije crnog automobila?



1. zbog toga što crni automobil nailazi s desne strane
2. zbog toga što crni automobil nailazi sa sporedne ceste
3. zbog toga što nailazite s njegove desne strane

22. Kako ćete postupiti u situaciji kao na slici?



1. propustiti autobus
2. propustiti oba vozila
3. propustiti motocikl i voziti prije autobusa

23. Kada se na velikom uzdužnom nagibu na kojemu je mimoilaženje otežano susretnu vozila istih kategorija, koje se vozilo mora kretati unatrag i omogućiti mimoilaženje?

1. vozilo koje se kreće uz nagib
2. vozilo koje se kreće niz nagib

24. Je li vozač dužan nakon pretjecanja drugog vozila dati znak pokazivačem smjera da se namjerava vratiti na prometnu traku kojom se kretao prije pretjecanja?

1. jest dužan
2. nije dužan

25. Na kojoj udaljenosti vozač mora postaviti poseban znak za označavanje vozila zaustavljenog na kolniku (sigurnosni trokut) na cesti izvan naselja?

metara

26. Kako ćete postupiti u slučaju požara na vašem vozilu za vožnje u tunelu?

1. zaustaviti vozilo i isključiti motor vozila
2. ako se požar ne može ugasiti, napustiti vozilo i krenuti prema skloništu
3. nastaviti voziti do izlaska iz tunela

27. Što označuje žaruljica na instrumentnoj ploči sa simbolom kao na slici?

1. antiblokirajući sustav
2. grešku u radu motora
3. parkirnu kočnicu



28. Koja je uloga ABS-a na motornom vozilu?

1. osigurati lakše okretanje upravljačkoga kola na motornom vozilu
2. osigurati veću sigurnost vozila zaustavljenog na cesti s uzdužnim nagibom
3. spriječiti blokiranje kotača pri naglom kočenju

29. Kada se neispravno vozilo smije vući drugim vozilom autocestom?

1. ako je plaćena cestarina za oba vozila
2. ako je neispravnost nastala na autocesti
3. ako je neispravnost nastala izvan autoceste

30. Što znači ekonomično voziti?

1. ne ubrzavati naglo, izbjegavati česta i nagla kočenja
2. naglo kočiti i voziti maksimalnu količinu tereta na krovu i u prtljažniku
3. voziti u optimalnom području broja okretaja motora

31. Pod kojim uvjetima na cesti, u situaciji kao na slici, vozač vozila može voziti trakom koja se ne nalazi uz desni rub kolnika?



1. ako time ne ometa ostala vozila koja se kreću iza njegova vozila
2. ako ne može razviti brzinu kretanja veću od 40 km na sat

32. Koliki razmak od vozila ispred za vožnje u kolonama u gradu morate održavati?



1. sigurnosni razmak od jednog metra
2. potreban razmak
3. razmak koji odgovara duljini vozila

33. O čemu morate voditi računa ako se vozilom uključujete u promet na cestu izvan naselja?



1. brzini vozila koja nailaze tom cestom
2. udaljenosti vozila koja nailaze tom cestom
3. tome imaju li vozila koja nailaze ABS uređaj

34. Kako ćete postupiti u situaciji kao na slici?



1. očekivati kolonu vozila ispred
2. prilagoditi brzinu i razmak vozilima u koloni
3. promijeniti prometnu traku i nastaviti vožnju

35. Kako treba postupiti vozač vozila nakon pretjecanja kako bi ponovno zauzeo položaj vozilom u desnoj prometnoj traci?

1. bez ometanja ili ugrožavanja vozila kojeg se pretječe
2. u blagom luku se vratiti u desnu prometnu traku
3. u oštrom luku se vratiti u desnu prometnu traku

36. Kako treba voziti zavojem u situaciji kao na slici?



1. do ulaska u zavoj smanjiti brzinu
2. od polovice zavoja postupno povećavati brzinu
3. voziti maksimalnom brzinom koja je dopuštena na cesti izvan naselja

37. Na kojim mjestima je moguće očekivati jak bočni vjetar?

1. na mostovima ili vijaduktima
2. na otvorenim dionicama ceste
3. na usjecima i zasjecima

38. Koje opasnosti mogu nastati na cesti tijekom vožnje u zimskim uvjetima?

1. zanošenje i klizanje vozila
2. ako pada snijeg, smanjena vidljivost
3. dulje vrijeme reagiranja

39. Uvjeti vidljivosti na autocesti su smanjeni, u situaciji kao na slici. Kako ćete se ponašati tijekom vožnje?



1. voziti uz povećani oprez
2. prilagoditi brzinu vožnje uvjetima vidljivosti
3. voziti brzinom većom od 130 km na sat

Test 16	
1.	1
2.	2
3.	13
4.	2
5.	1
6.	2
7.	12
8.	<u>2</u>
9.	13
10.	2
11.	2
12.	124
13.	13
14.	12
15.	2
16.	2
17.	2
18.	12
19.	1
20.	1
21.	3
22.	3
23.	2
24.	2
25.	100m
26.	12
27.	1
28.	3
29.	2
30.	13
31.	1
32.	1
33.	12
34.	12
35.	12
36.	12
37.	<u>12</u>
38.	12
39.	12