

1. Koliko kolničkih traka ima cesta na slici?



1. dvije
2. jednu
3. tri

2. Kojom najvećom brzinom na cesti namijenjenoj isključivo za promet motornih vozila smije upravljati vozilom mladi vozač koji posjeduje vozačku dozvolu B kategorije?

1. brzinom do 90 km na sat
2. brzinom do 110 km na sat
3. brzinom do 100 km na sa

3. Kada vozač reagira brže?

1. kada posjeduje potrebne vještine
2. kada je umoran
3. kada je pod utjecajem alkohola ili droge

4. Što je zaustavni put vozila?

1. put koji vozilo prijeđe od trenutka kada vozač pritisne na papučicu kočnice pa do potpunog zaustavljanja vozila
2. put koji vozilo prijeđe od trenutka kada je vozač uočio opasnost na cesti pa do potpunog zaustavljanja vozila

5. Vozite cestom uz čiji rub je postavljena ploča s treptaćima kao na slici. Što ona znači?

1. da se na cesti izvode radovi
2. da se mjesto radova na cesti obilazi s lijeve strane
3. da se mjesto radova na cesti obilazi s desne stran



6. Na koju opasnost upozorava prometni znak na slici?

1. na jak bočni vjetar na udaljenosti 600 metara od prometnog znaka
2. na jak bočni vjetar u duljini 600 metara od prometnog znaka



7. Na što ukazuje ovaj prometni znak s dopunskom pločom?

1. na položaj ceste s pravom prednosti prolaska
2. na obavezan smjer vožnje
3. da dolazite sa sporedne ceste



8. Kako ćete postupiti pri nailasku na ovaj prometni znak?

1. pripremiti se na propuštanje djece
2. povećati pozornost i smanjiti brzinu
3. povećanom brzinom obići djecu ako su stupila na kolnik



9. Kako se na semaforu može pojaviti žuto svjetlo?

1. zajedno sa zelenim svjetlom prije pojave crvenog svjetla
2. zajedno s crvenim svjetlom prije pojave zelenog svjetla
3. kao samostalno svjetla

10. Jeli dopušteno vozilom prelaziti preko dvostruke pune razdjelne crte na kolniku u situaciji kao na slici?



1. zabranjeno je prelaziti preko te crte
2. dopušteno je prelaziti
3. zabranjeno je voziti po toj crti

11. Koja vozila smiju proći kroz raskrižje na kojemu prometom upravlja policijski službenik u situaciji kao na slici?

1. vozila koja nailaze s bočnih strana policijskog službenika
2. vozila koja se nakon znaka ne mogu na siguran način zaustaviti
3. vozila koja na raskrižju skreću udesno



12. Kada vozač mora uključiti sve pokazivače smjera na vozilu?


1. prilikom vožnje nepreglednim i uskim zavojem
2. kada namjerava znatnije smanjiti brzinu
3. za vrijeme kretanja vozila unatrag

13. Koje su opasnosti moguće tijekom vožnje u situaciji kao na slici?



1. zaslepljivanje i neuočavanje prometne situacije
2. pogrešna procjena brzine
3. pogrešna procjena udaljenosti

14. Koje su moguće opasnosti zbog smanjenja uočavanja prometne situacije tijekom vožnje u situaciji kao na slici?



1. vožnja s upaljenim kratkim svjetlima
2. nalet na vozilo ispred
3. prelazak preko dvostruke pune crte

15. Vozite cestom u situaciji kao na slici. Kako ćete postupiti?



1. nakon prolaska vozila iz suprotnog smjera obići djecu
2. voziti pokraj djece i pažljivo pratiti njihovo kretanje
3. predvidjeti mogućnost da neko dijete iznenada stupi na kolnik

16. Sustigli ste vozilo u situaciji kao na slici. Kako se kreće vozač vozila ispred u situaciji kao na slici?



1. sredinom kolnika
2. uz desni rub prometne trake
3. sredinom prometne trake

17. kretanja vozila na cesti u naselju u kojemu brzina kretanja nije određena posebnim prometnim znakom?


km na sat

18. Kako ćete, kao vozač crnog automobila koji vozi ravno u situaciji kao na slici, postupiti na raskrižju cesta iste važnosti?(crveni desno strana)




1. propustiti crveni automobil
2. voziti prije crvenog automobila
3. dogovoriti se oko propuštanja

19. Zbog čega ćete u situaciji kao na slici voziti prije crvenog automobila?




1. zbog toga što nailazi s lijeve strane
2. zbog toga što nailazite s desne strane
3. zbog toga što se nailazi na sporednoj cesti

20. Kako ćete postupiti u situaciji kao na slici? (sivi s lijeve, crveni s desne strane)



1. propustiti crveni automobil
2. voziti prije crvenog automobila
3. propustiti sivi automobil

21. Kako ćete postupiti u situaciji kao na slici?



1. propustiti motocikl i voziti prije osobnog automobila
2. propustiti osobni automobil i voziti prije motocikla
3. propustiti oba vozila

22. Zbog čega morate, u situaciji kao na slici, propustiti autobus?



1. zbog toga što autobus zadržava smjer kretanja
2. zbog toga što autobus nailazi cestom s prednošću prolaska
3. zbog toga što se prometom upravlja semaforima

23. Koje će se vozilo kretati unatrag kad se jedno od vozila koja se mimoilaze na velikom uzdužnom nagibu mora kretati unatrag?

1. svako vozilo koje se susrelo s vozilom koje vuče priključno vozilo
2. vozilo koje se susrelo s vozilom niže kategorije
3. vozilo koje se susrelo s vozilom više kategorije

24. Što je dužan učiniti vozač koji pretječe drugo vozilo?

1. održavati potreban bočni razmak od vozila koje pretječe
2. voziti što bliže vozilu koje pretječe
3. pretjecati tako da ga ne ometa niti ugrožava

25. Što vozač mora učiniti ako je zaustavio vozilo na kolniku i obilježio ga posebnim znakom za označivanje zaustavljenog vozila na kolniku (sigurnosni trokut)?

1. uključiti svjetla za označivanje vozila
2. uključiti desni pokazivač smjera
3. uključiti sve pokazivače smjera

26. U koliko smjerova se odvija promet u tunelu, u situaciji kao na slici?



1. u jednom smjeru
2. u dva smjera

27. Što označuje žaruljica na instrumentnoj ploči sa simbolom kao na slici?

1. katalizator
2. grešku u radu motora
3. predgrijavanje dizelskog motora



28. Koja je uloga radne kočnice na motornom vozilu?

1. omogućiti vozaču zaustavljanje vozila na brz i učinkovit način bez obzira na nagib ceste
2. omogućiti vozaču osiguranje vozila ostavljenog na cesti s uzdužnim nagibom
3. omogućiti vozaču zaustavljanje vozila na brz i učinkovit način bez obzira na brzinu

29. Smije li se vozilo koje vuče drugo neispravno vozilo uključiti u promet na autocesti?

1. smije
2. ne smije
3. smije ako se vučno vozilo može kretati brzinom većom od 80 km/h

30. Po čemu ćete prepoznati da je na cesti zaustavljena kolona vozila?

1. po postavljenom jednom sigurnosnom trokutu
2. po postavljenim dvama sigurnosnim trokutima jedan pokraj drugog
3. po postavljenim dvama sigurnosnim trokutima jedan ispred drugog

31. Vozite zelenim valom u situaciji kao na slici. O čemu morate voditi računa?



1. brzini prometnog toka
2. vozilima u usporednim kolonama
3. oznakama na kolniku

32. Što je zabranjeno za vožnje u kolonama vozila u gradu?

1. pretjecati kolonu vozila
2. voziti slalomski
3. isključivati se iz kolone radi skretanja

33. Čemu ste dužni prilagoditi brzinu vožnje na cesti izvan naselja, u situaciji kao na slici?



1. vrsti ceste po kojoj vozite
2. smanjenoj vidljivosti i preglednosti
3. postavljenim znakovima opasnosti

34. Koje su opasnosti moguće pri vožnji u koloni?



1. nalijetanje na vozilo ispred
2. vožnja na potrebnom razmaku
3. vožnja prilagođenom brzinom

35. Koje opasnosti možete predvidjeti za vožnje uzbrdicom?

1. pregrijavanje motora
2. dulje vrijeme reagiranja vozača
3. kraći zaustavni put

36. Koje opasnosti možete predvidjeti za vožnje nizbrdicom?

1. produljen put kočenja
2. kraći zaustavni put
3. pregrijavanje kočnica

37. Koja se opasnost može očekivati u situaciji kao na slici? (znak je sa strelicama 1km)



1. nakon jednoga kilometra jak bočni vjetar
2. jak bočni vjetar u duljini od jednoga kilometra
3. jak bočni vjetar samo s lijeve strane

38. Što se smatra zimskim uvjetima na cesti?

1. kada je kolnik prekriven snijegom
2. kada je na kolniku poledica
3. kada je kolnik prekriven lišćem

Test 15	
1.	1
2.	3
3.	1
4.	2
5.	12
6.	1
7.	13
8.	12
9.	23
10.	13
11.	2
12.	23
13.	123
14.	23
15.	23
16.	3
17.	50kmh
18.	1
19.	12
20.	13
21.	1
22.	13
23.	13
24.	13
25.	3
26.	2
27.	2
28.	13
29.	2
30.	2
31.	123
32.	12
33.	13
34.	1
35.	1
36.	13
37.	2
38.	12