

1. Koliko kolničkih traka ima cesta na slici?




1. dvije
2. jednu
3. tri

2. Kojom najvećom brzinom na autocesti smije upravljati vozilom mladi vozač koji posjeduje vozačku dozvolu B kategorije?

1. brzinom do 120 km na sat
2. brzinom do 110 km na sat
3. brzinom do 130 km na sat

3. Vozite cestom u situaciji kao na slici. Koju opasnost trebate očekivati?



1. smanjenu vidljivost
2. sklizak kolnik
3. opasan zavoj

4. Kako mora postupiti vozač kada osjeti prve znakove umora?

1. izdržati što dulje do odredišta i onda se dobro odmoriti
2. odmah, na prikladnom mjestu, kratko se odmoriti

5. Kako djeluje centrifugalna sila na vozilo pri vožnji kroz zavoj?

1. nastoji vozilo izbaciti iz zavoja
2. nastoji vozilo zadržati na putanji kroz zavoj
3. nastoji vozilo prevrnuti u zavoj

6. Koji prometni znak označuje mjesto na kojem cesta prelazi preko željezničke pruge u razini bez branika ili polubranika?



7. Kako ćete postupiti pri nailasku na ovaj prometni znak?

1. smanjiti brzinu vožnje i povećati pozornost
2. propustiti vozila iz suprotnog smjera ako nailaze
3. voziti prije vozila iz suprotnog smjera



8. Koji prometni znak označuje da vozite cestom s prednošću prolaska?



9. Na što vozača upozorava zeleno treptavo svjetlo?

1. na zabranu prolaska kroz raskrižje
2. na skori prestanak slobodnog prolaska kroz raskrižje
3. na skoru pojavu žutog, odnosno crvenog svjetla

10. Što označuje isprekidana razdjelna crta u situaciji kao na slici?



1. dijeli kolnik na dvije prometne trake
2. dijeli kolnik na dvije kolničke trake
3. dijeli kolnik od rubne crte

11. Kako ćete postupiti približavajući se vozilom policijskom službeniku u situaciji kao na slici?



1. obvezno zaustaviti vozilo
2. ubrzati i što prije proći
3. pratiti znak policijskog službenika

12. O čemu mora voditi računa vozač koji daje svjetlosni znak upozorenja naizmjeničnim paljenjem dugih i kratkih svjetala na vozilu?


1. da se time ne zaslepljuju vozači koji nailaze iz suprotnog smjera
2. da svjetlima ne osvjetljava prometne znakove postavljene uz cestu
3. da se svjetla vide na dovoljnoj udaljenosti od ostalih sudionika u prometu

13. O čemu ovisi kvaliteta percepcije prometne situacije tijekom vožnje u situaciji kao na slici?



1. sposobnostima vozača
2. snazi automobila kojim vozač upravlja
3. brzini vožnje

14. Što može utjecati na smanjenje uočavanja prometne situacije tijekom vožnje u tunelu?



1. zaštitna ograda
2. izlazak vozilom iz tunela na svjetlo
3. slaba osvjetljenost tunela

15. Kako se djeca ponašaju u prometu na cesti?

1. ne prepoznaju opasnost
2. nepravilno procjenjuju brzinu vozila
3. u skladu s prometnim propisima

16. Kako se mora kretati vozač motornog vozila obilježenom prometnom trakom?

1. uz desni rub prometne trake
2. uz lijevi rub prometne trake
3. sredinom prometne trake


17. Koliko je ograničenje brzine kretanja vozila na cesti u naselju u kojemu brzina kretanja nije određena posebnim prometnim znakom?

1. 50 km na sat
2. 60 km na sat
3. 80 km na sat

18. Kako ćete postupiti na raskrižju cesta iste važnosti?


1. propustiti vozila koja nailaze s vaše lijeve strane
2. propustiti vozila koja nailaze s vaše desne strane

19. Kako ćete postupiti u situaciji kao na slici? (crveni automobil odlazi s lijeve strane)



1. propustiti crveni automobil
2. voziti prije crvenog automobila

20. Kako ćete postupiti u situaciji kao na slici?



1. voziti prvi kroz raskrižje
2. propustiti osobni automobil
3. voziti zadnji kroz raskrižje

21. Zbog čega morate, u situaciji kao na slici, propustiti motocikl?



1. zbog toga što nailazim na cestu s prednošću prolaska
2. zbog toga što nailazite s lijeve strane
3. zbog toga što zadržavate smjer vožnje

22. Kako ćete postupiti u situaciji kao na slici?



1. voziti prije crnog automobila
2. propustiti crveni automobil
3. propustiti crni automobil

23. Koji je vozač dužan zaustaviti svoje vozilo i omogućiti mimoilaženje na cesti s velikim uzdužnim nagibom?

1. vozač vozila koji se kreće niz nagib
2. vozač vozila koji se kreće uz nagib

24. Na kojim mjestima na kolniku na kojemu se promet odvija u oba smjera, a koji ima po jednu traku namijenjenu za promet vozila u jednom smjeru, vozač ne smije pretjecati drugo vozilo?

1. u tunelu
2. na mostu
3. ispred vrha prijevoja ceste

25. Kada je vozač dužan obilježiti svoje vozilo posebnim znakom za označavanje vozila zaustavljenog na kolniku (sigurnosni trokut).

1. kada je bio prisiljen vozilo zaustaviti na mjestu ili dijelu ceste gdje je zabranjeno zaustavljanje i parkiranje
2. kad je zaustavljen na nogostupu ili mjestu rezerviranom za vozila osoba s invaliditetom
3. kad je vozilo zaustavljeno na kolniku na mjestu gdje ga vozači vozila koja nailaze ne mogu ili teško mogu pravodobno uočiti

26. U koliko smjerova se odvija promet u tunelu, u situaciji kao na slici?



1. u jednom smjeru
2. u dva smjera

27. Što označuje žaruljica na instrumentnoj ploči sa simbolom kao na slici?

1. rezervu goriva
2. grešku u radu motora
3. predgrijavanje dizelskog motora



28. Koja je uloga uređaja za zaustavljanje na motornom vozilu?

1. osigurati vozaču lako i sigurno mijenjanje smjera vožnje
2. osigurati vozaču brzo i sigurno zaustavljanje vozila
3. osigurati vozaču mogućnost ostavljanja vozila u nepokretnom položaju na cesti uz nagib

29. Kada se vuča obavlja pomoću užeta, koliki mora biti razmak između vučnog i vučenog vozila?

1. manje od 3 metra
2. 3 do 5 metara
3. više od 5 metara

30. Na kojoj se udaljenosti iza zaustavljene kolone vozila postavljaju dva sigurnosna trokuta, jedan pokraj drugog?



31. Vozite u situaciji kao na slici. Kako ćete postupiti u skladu s prometnim znakovima, prometnim svjetlima i oznakama na kolniku?



1. obvezno stati prije zaustavne crte
2. prestrojiti se u lijevu prometnu traku
3. voziti raskrižjem ravno

32. Što je zabranjeno za vožnje u kolonama vozila u gradu?



1. prestrojivati se
2. voziti slalomski
3. isključivati se iz kolone radi skretanja

33. Kojom se najvećom brzinom smije voziti cestom izvan naselja, u situaciji kao na slici?



1. 70 km na sat
2. 80 km na sat
3. 90 km na sat

34. Kada se češće stvaraju kolone vozila na cestama izvan naselja?



1. tijekom sezone godišnjih odmora
2. tijekom nadolazećih blagdana
3. u slučaju prometne nesreće na cesti

35. O čemu ovisi duljina puta pretjecanja?

1. brzini reagiranja vozača
2. duljini vozila koje se pretječe
3. brzini vožnje kojom se pretječe

36. Koje opasnosti možete predvidjeti za vožnje uzbrdicom?

1. pregrijavanje motora
2. dulje vrijeme reagiranja vozača
3. kraći zaustavni put

37. Kako ćete postupiti tijekom vožnje u situaciji kao na slici?



1. na potrebnom razmaku zaustaviti vozilo
2. uključiti sve pokazivače smjera
3. odmah obavijestiti vatrogasnu službu

38. Koja svjetla za osvjetljenje ceste, u pravilu, morate koristiti na cesti izvan naselja u situaciji kao na slici?



1. duga svjetla
2. kratka svjetla
3. stražnje svjetlo za maglu

39. Koje opasnosti su moguće tijekom vožnje cestom zbog kolotraga na kolniku?

1. pojava vodenog klina i skijanja na vodi
2. zanošenje vozila i gubljenje upravljivosti
3. dulji put kočenja

40. O čemu treba voditi računa tijekom vožnje u situaciji kao na slici?



1. održavanju potrebnog razmaka
2. brzini vožnje i stanju kolnika
3. vozilima iz suprotnog smjera

Test 14	
1.	1
2.	1
3.	23
4.	2
5.	13
6.	3
7.	12
8.	2
9.	23
10.	12
11.	13
12.	13
13.	13
14.	23
15.	12
16.	3
17.	1
18.	2
19.	2
20.	1
21.	1
22.	23
23.	1
24.	123
25.	13
26.	2
27.	3
28.	2
29.	2
30.	100 m
31.	3
32.	2
33.	2
34.	123
35.	23
36.	1
37.	12
38.	1
39.	123
40.	12