

1. Što je masa vozila?

1. masa praznog vozila spremno za vožnju u skladu s homologacijskim zahtjevima
2. masa praznog vozila s praznim spremnikom i bez obveznog pribora i opreme za vozilo

2. Vozite autocestom u situaciji kao na slici. Zbog čega možete biti u opasnosti?



1. zbog smanjene vidljivosti
2. zbog mokroga i skliskoga kolnika
3. zbog nepreglednog zavoja

3. Kako treba postupiti vozač pod utjecajem alkohola?

1. ne smije upravljati niti početi upravljati vozilom
2. smije upravljati vozilom, ali samo u prisutnosti starijeg vozača
3. treba koristiti javni prijevoz

4. U kojim će uvjetima prijanjanje guma na cesti biti bolje?

1. u uvjetima kada je kolnik hrapav
2. u uvjetima kada je kolnik suh
3. u uvjetima kada je kolnik mokar

5. Kako ćete postupiti nakon ovoga prometnog znaka?



1. što većom brzinom proći kraj biciklista ako nailaze
2. povećati pozornost
3. biti pripravan na zaustavljanje ako biciklisti nailaze

6. Što se mora učiniti pri nailasku na ovaj prometni znak?



1. obvezno zaustaviti vozilo
2. propustiti vozila ako nailaze cestom s prednošću prolaska
3. obvezno se zaustaviti samo ako nailaze vozila cestom s prednošću prolaska

7. Na što ukazuje ovaj prometni znak obavijesti?



1. na zonu u kojoj je preporučena brzina vožnje 30 km na sat
2. na zonu u kojoj vozila moraju voziti brzinom većom od 30 km na sat
3. na zonu u kojoj je ograničena brzina vožnje 30 km na sat

8. Što za vozača znači žuto svjetlo na semaforu upaljeno samostalno?


1. u pravilu zabranu prolaska
2. slobodan prolazak
3. isključen semafor

9. Što označuje puna uzdužna crta na kolniku u situaciji kao na slici?



1. zabranu prelaska vozila preko uzdužne crte
2. dopušteno kretanje po uzdužnoj crti
3. zabranu kretanja vozila po uzdužnoj crti

10. Što se na cesti označuje pločom kao na slici?



1. oštar zavoj na cesti
2. obilazak prometnog otoka na cesti
3. bočne smetnje na cesti

11. Što znači više uzastopnih zvižduka zviždaljkom koje daje policijski službenik?

1. upozorenje određenom sudioniku u prometu na povećanje brzine kretanja
2. upozorenje da je određeni sudionik u prometu postupio protivno zahtjevu izraženim danim znakom
3. poziv sudionicima u prometu da obrate pozornost na policijskog službenika koji će izraziti određeni zahtjeve

12. S čime vozač mora računati tijekom vožnje u situaciji kao na slici?



1. s time da ga dijete ne uočava
2. s nepredvidivim reagiranjem djeteta
3. s time da će se dijete zaustaviti ispred vozila

13. Radi čega vozač mora provjeravati mrtvi kut?

1. radi provjere prometnih uvjeta iza svog vozila
2. radi provjere prometnog znaka koji je prošao
3. radi provjere prometnih uvjeta s bočnih strana vozila

14. Vozilo na cesti ispred vašeg vozila, u situaciji kao na slici, zaustavilo se. Kako ćete postupiti?



1. obići vozilo ispred s lijeve strane
2. stati iza vozila i sačekati da napusti raskrižje
3. zvučnim znakom ga upozoriti da nastavi vožnju

15. Kako mora postupiti vozač prema vozilu javnog prijevoza putnika kada se to vozilo uključuje u promet sa stajališta koje se nalazi izvan kolnika?

1. dužan mu je omogućiti uključivanje
2. nije mu dužan omogućiti uključivanje
3. dužan mu je omogućiti uključivanje samo ako organizirano prevozi djecu


16. Zašto je vozač dužan prilagoditi brzinu kretanja vozila?

1. da vozilo može pravodobno zaustaviti pred svakom zaprekom na cesti
2. da može postupiti prema prometnom pravilu ili znaku
3. da može što je moguće brže stići do odredišta

17. Koja opasnost može prijetiti vozaču prilikom mijenjanja prometne trake?


1. pojava vozila iz suprotnog smjera
2. pojava vozila s bočnih cesta
3. pojava vozila u mrtvom kutu

18. Kako ćete postupiti u situaciji kao na slici? (sivo vozilo dolazi s desne strane)



1. propustiti sivo vozilo
2. voziti prije sivog vozila
3. propustiti vozilo ako dolazi s lijeve strane

19. Kako ćete postupiti u situaciji kao na slici?




1. propustiti motocikl i voziti prije osobnog automobila
2. propustiti osobni automobil i voziti prije motocikla
3. propustiti oba vozila

20. Kako ćete postupiti u situaciji kao na slici?



1. stati i sačekati zeleno svjetlo
2. propustiti crveni automobil
3. voziti u smjeru zelene dopunske strelice

21. Zbog čega ste obvezni nakon što propustite crveni automobil u situaciji kao na slici voziti prije crnog automobila? (sivi s lijeve strane, crveni s desne strane)



1. zbog toga što crni automobil nailazi s desne strane
2. zbog toga što crni automobil nailazi sa sporedne ceste
3. zbog toga što nailazite s njegove desne strane

22.Što ste dužni učiniti zbog neke zapreke na cesti ako procijenite da nemate dovoljno prostora za sigurno mimoilaženje?

1. povećati brzinu i što prije proći pokraj zapreke
2. usporiti kretanje svog vozila, a po potrebi i zaustaviti ga
3. propustiti vozilo iz suprotnog smjer

23.Zbog čega ne smijete pretjecati oba vozila ispred vas u situaciji kao na slici?



1. zbog toga što prometna traka kojom namjeravate pretjecati nije slobodna na dovoljnoj udaljenosti
2. zbog toga što je ispred kolona vozila
3. zbog toga što je vozač vozila ispred dao znak da pretječe

24.Smije li se zaustavljati ili parkirati vozilo na mjestima u situaciji kao na slici osim vozila osoba s invaliditetom?



1. smije
2. ne smije

25.Kojom se prometnom trakom na brzjoj cesti moraju kretati vozila u situaciji kao na slici?



1. desnom prometnom trakom ako nije zakrčena vozilima u koloni
2. zaustavnom trakom ako je desna prometna traka zakrčena vozilima u koloni
3. lijevom prometnom trakom ako pretječu vozila

26.Što čini zimsku opremu osobnog automobila?

1. zimske gume (M+S) na svim kotačima
2. ljetne gume dubine profila 4 mm i s lancima za snijeg pripravnim za postavljanje na pogonske kotače
3. zimske gume (M+S) samo na pogonskim kotačima

27.Tko je dužan tijekom vožnje u vozilu koristiti sigurnosni pojas?

1. vozač i suvozač
2. vozač i svi putnici u vozilu
3. isključivo vozač

28.Gdje se postavlja sigurnosni trokut za vrijeme vuče neispravnog vozila?

1. s prednje strane vozila koje vuče
2. s prednje strane neispravnog vozila
3. sa stražnje strane neispravnog vozila

29.Vozite cestom izvan naselja. Što ste dužni učiniti u slučaju neispravnosti na vozilu?

1. pomaknuti vozilo što bliže desnom rubu kolnika
2. postaviti sigurnosni trokut iza vozila na razmaku od najmanje 100 m
3. uključiti sve pokazivače smjera

30. Koje opasnosti možete očekivati u situaciji kao na slici?



1. iznenadnu pojavu pješaka na pješačkom prijelazu
2. gust promet vozila iz suprotnog smjera
3. otežano mimoilaženje zbog nedovoljne širine kolnika

31. Što se smatra kolonom vozila u naseljenom mjestu?

1. skupina od najmanje triju automobila koji voze u nizu jedan iza drugoga
2. skupina od najmanje triju bicikala koji voze u nizu jedan iza drugoga
3. skupina od najmanje triju automobila zaustavljenih na kolniku

32. Čemu je vozač dužan prilagoditi brzinu vožnje?



1. vrsti ceste i stanju kolnika
2. uvjetima vidljivosti i preglednosti
3. maksimalnoj snazi motora svog vozila

33. U kojim je situacijama potrebno povećati vremenski razmak u vožnji između vozila na više od tri sekunde?

1. kada su na cesti zimski uvjeti
2. kada se vozi iza vozila javnog prijevoza putnika
3. kada se vozi iza vozila koje prevozi opasne tvari

34. Smije li vozač vozilom pretjecati u situaciji kao na slici?



1. ne smije jer postoji zabrana pretjecanja
2. ne smije jer je ograničenje brzine 80 km na sat
3. smije jer je naznačen prestanak zabrane pretjecanja

35. Što vozači sudionici prometne nesreće u kojoj je nastala materijalna šteta, u kojoj ima ozlijeđenih ili poginulih osoba ne smiju uzimati neposredno nakon što se dogodila prometna nesreća?

1. alkoholna pića i opojne droge
2. lijekove koji se ne smiju upotrebljavati prije ili za vrijeme vožnje
3. vodu i bezalkoholna pića

36. Kako ćete, kao vozač, postupiti ako vozilo koje vam dolazi iz suprotnog smjera ima upaljena duga svjetla?

1. voziti s upaljenim dugim svjetlima
2. smanjiti brzinu vožnje
3. naizmjeničnim paljenjem dugih i kratkih svjetala dati znak upozorenja

37. Kako ćete postupiti kada vozilom naiđete na veću količinu vode na cesti?

1. sačuvati prisebnost i pokušati izaći iz vode
2. zaustaviti vozilo u vodi
3. zaustaviti vozilo i isključiti motor

38. Na koje opasnosti treba računati tijekom vožnje autocestom u situaciji kao na slici?



1. na smanjenu vidljivost
2. na dolazak vozila iz suprotnog smjera
3. na sklizak kolnik

Test 11	
1.	1
2.	12
3.	13
4.	12
5.	23
6.	12
7.	3
8.	1
9.	13
10.	1
11.	2
12.	12
13.	3
14.	2
15.	1
16.	12
17.	3
18.	1
19.	1
20.	23
21.	3
22.	23
23.	1
24.	2
25.	13
26.	12
27.	12
28.	13
29.	123
30.	13
31.	13
32.	12
33.	13
34.	3
35.	12
36.	23
37.	1
38.	13